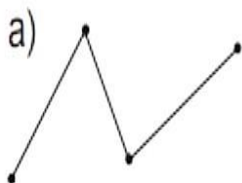


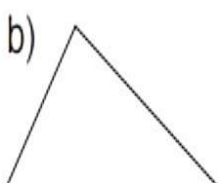
# PHIẾU BÀI TẬP CUỐI TUẦN 18

## Ôn tập hình phẳng

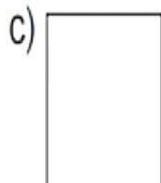
### Bài 1: Số?



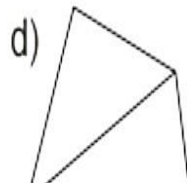
Có ....  
đoạn thẳng



Có ....  
đoạn thẳng



Có ....  
đoạn thẳng



Có ....  
đoạn thẳng

### Bài 2: Số?



a, Đo độ dài mỗi đoạn và hoàn thành vào bảng

Đoạn NM	Đoạn CD	Đoạn PQ	Đoạn AB

b, Trong các đoạn thẳng trên

Đoạn thẳng dài nhất là :.....

Đoạn thẳng ngắn nhất là:.....

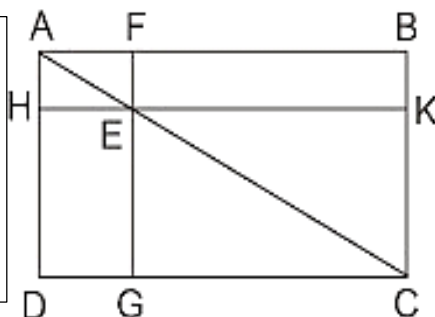
### Bài 3: Viết tên 3 điểm thẳng hàng ở hình bên

Mẫu: A, F, B là ba điểm thẳng hàng

.....

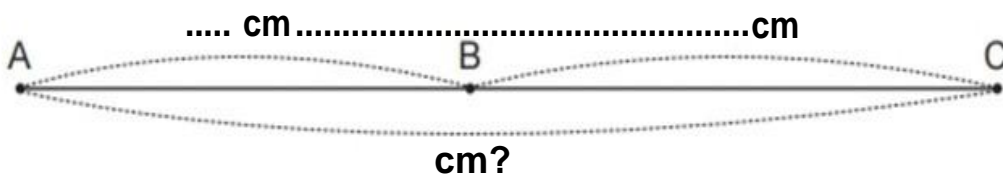
.....

.....



**Bài 4:** Hoàn thành hình vẽ dưới và giải bài toán

Đoạn thẳng AB dài 8 cm, đoạn BC dài 9cm. Hỏi đoạn thẳng AC dài bao nhiêu xăng - ti- mét?



**Bài giải:**

.....

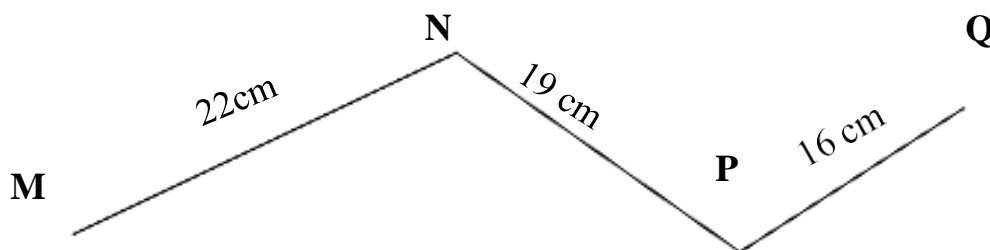
.....

.....

.....

.....

**Bài 5:** Tính độ dài đường gấp khúc dưới đây



**Bài giải:**

.....

.....

.....

.....

.....

## PHIẾU BÀI TẬP CUỐI TUẦN 18

### Ôn tập chung

**A. Phần trắc nghiệm:** Khoanh tròn vào chữ cái đặt trước câu trả lời đúng

**Câu 1:** Số lớn nhất có hai chữ số là:

- A. 10                      B. 90                      C. 99                      D. 100

**Câu 2:** Số liền trước của 69 là:

- A. 60                      B. 68                      C. 70                      D. 80

**Câu 3:** Hiệu là 8, số trừ là 24, số bị trừ là:

- A. 16                      B. 33                      C. 32                      D. 18

**Câu 4:**  $28 + 72 - 20 = \dots$  Kết quả của phép tính là:

- A. 60                      B. 100                      C. 70                      D. 80

**Câu 5:**  $6\text{dm}5\text{cm} - 17\text{cm} = \dots\text{cm}$  ?

- A. 48                      B. 38                      C. 58                      D. 49

**Câu 6:** Tổng của số lớn nhất có 1 chữ số với số liền trước nó là bao nhiêu ?

- A. 18                      B. 17                      C. 19                      D. 16

**Câu 7:** Hình dưới đây có mấy hình tứ giác?

- A. 1                      B. 2  
C. 3                      D. 4

**Câu 8:** Trong vườn có 45 cây ổi, số cây ổi ít hơn số cây na là 18 cây.

Hỏi trong vườn có tất cả bao nhiêu cây na?

- A. 63 cây.              B. 27 cây              C. 62 cây              D. 28 cây.

**Câu 9:** Thứ năm PHIẾU BÀI TẬP CUỐI TUẦN này là ngày 20

tháng 12, vậy thứ năm PHIẾU BÀI TẬP CUỐI TUẦN sau là ngày nào?

- A. Ngày 26              B. Ngày 27              C. Ngày 28              D. Ngày 29

**Câu 10:** Điền dấu (<, >, =) thích hợp vào ô trống:  $7 + 8 \dots 8 + 7$

- A. <                      B. >                      C. =                      D. +

## **B. Phần tư luận:**

**Câu 1:** Đặt tính rồi tính:

$29 + 27$

$59 + 31$

$70 - 35$

$81 - 37$

**Câu 2:** Một cửa hàng buổi sáng bán được 57 ki-lô-gam gạo. Buổi chiều bán được nhiều hơn buổi sáng 18 ki-lô-gam gạo. Hỏi buổi chiều bán được bao nhiêu ki-lô-gam gạo?

### **Bài giải:**

**Câu 4:** Hiệu hai số bằng 74, nếu giữ nguyên số trừ, bớt số bị trừ đi 9 đơn vị thì hiệu hai số khi đó bằng bao nhiêu?

### **Bài giải:**

### **Bài 5: Tính**

$90 - 26 + 9 = \dots\dots\dots$

$= \dots\dots\dots$

$87 + 3 - 53 = \dots\dots\dots$

$= \dots\dots\dots$